




Jméno: \_\_\_\_\_

# Vypočti pyramidy - baňky

Sčítej vždy dvě baňky vedle sebe. Postupuj zesponu nahoru.



# Vypočti příklady - dárky

$53 + 7 = \underline{\quad}$	$90 - 4 = \underline{\quad}$
$64 + 5 = \underline{\quad}$	$88 - 5 = \underline{\quad}$
$9 + \underline{\quad} = 87$	$45 - \underline{\quad} = 41$
$\underline{\quad} + 8 = 39$	$\underline{\quad} - 6 = 72$

$85 + 7 = \underline{\quad}$	$62 - 5 = \underline{\quad}$
$32 + 9 = \underline{\quad}$	$93 - 7 = \underline{\quad}$
$7 + \underline{\quad} = 42$	$56 - \underline{\quad} = 48$
$\underline{\quad} + 8 = 55$	$\underline{\quad} - 6 = 27$

# Předvánoční slovní úloha

Maruška s Frantou strojili vánoční stromeček. Pověsili na něj 26 zlatých baněk a 8 červených. Kolik baněk na stromek pověsili?

\_\_\_\_\_

\_\_\_\_\_

\_\_\_\_\_

Odpověď: \_\_\_\_\_