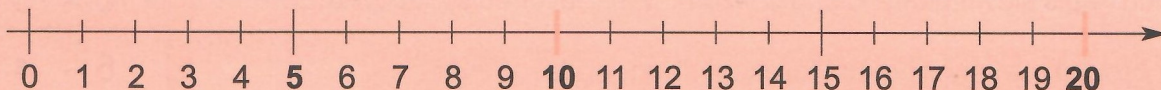
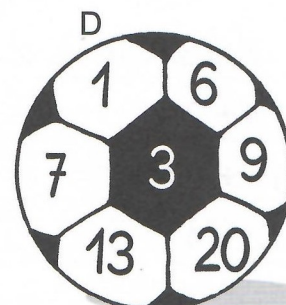
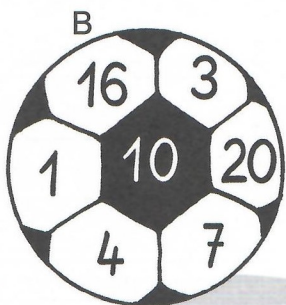



1. V každém fotbalovém míči vybarvi největší číslo zeleně a nejmenší modře:



2. Vypiš z každého míče ve cvičení 1 vždy taková dvě čísla

a) jejichž součet je roven číslu 10:

b) jejichž součet je roven číslu 20:

6,4			
A	B	C	D

A	B	C	D

3. Zapiš a vypočítej příklad a formuluj odpověď:

Horákovi a Váňovi se jeli vykoupat do bazénu.

a) Horákovi jeli vlakem 6 km a pak ještě 4 km autobusem.
Kolik km celkem ujeli?

6 + _____

Odpověď: _____

b) Váňovi jeli autem. Cesta autem byla o 3 km delší než vlakem a autobusem. **Kolik km ujeli Váňovi?**

Odpověď: _____

4. Doplň +, - :

13 ○ 2 = 15

4 ○ 4 = 0

17 ○ 4 = 13

18 ○ 6 = 12

11 ○ 9 = 20

13 ○ 13 = 0

5 ○ 4 = 9

10 ○ 10 = 20

20 ○ 0 = 20

5. Doplň <, >, = :

13 □ 14

17 □ 12

10 □ 4

3 □ 4

20 □ 12

16 □ 17

11 □ 11

19 □ 20

0 □ 0

14 □ 15

19 □ 19

10 □ 20

14 □ 10

3 □ 15

17 □ 17

4 □ 14

12 □ 2

20 □ 20

6. Rozhodni, kdo uplavál více koleček:

**Tomáš uplavál 12 koleček,
David bez osmi 20 koleček.**

Více koleček uplavál: _____

7. Vyzdob kruh na plavání tak, abys zachoval logickou řadu:

