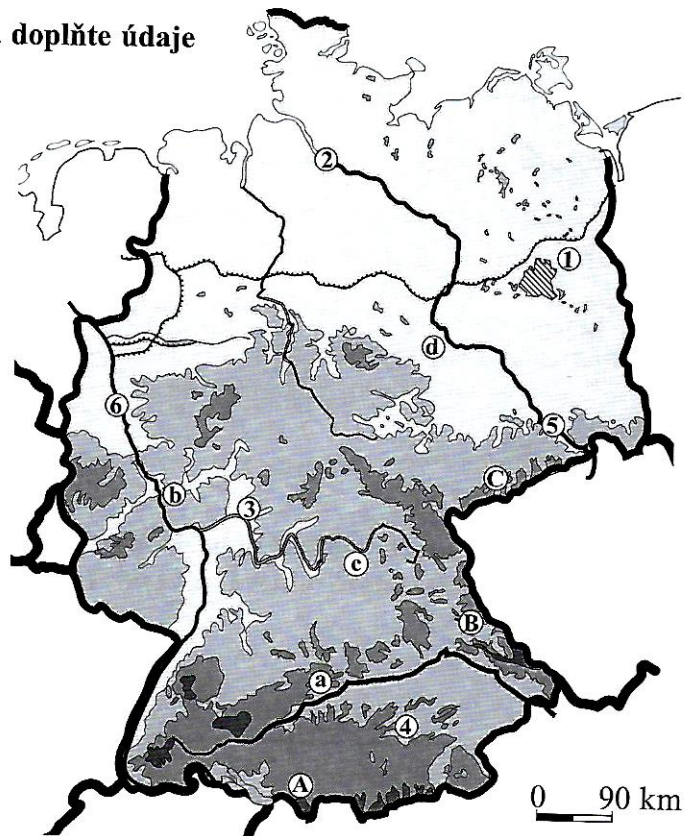


# NĚMECKO

1. a) Do mapy dopište názvy sousedních států a doplňte údaje označené písmeny nebo čísly.

Pracujte s učebnicí, str. 50.

Pohoří:	Města:
A _____	1 _____
B _____	2 _____
C _____	3 _____
Řeky:	4 _____
a _____	5 _____
b _____	6 _____
c _____	
d _____	



b) Modře vyznačte mořské pobřeží. Dopíšte názvy moří, která oblévají severní část Německa.

2. Doplněte, nebo vyberte jednu z možností.

Pracujte s učebnicí, str. 50.

S Německem sousedíme na (západě – východě).

Úředním jazykem je \_\_\_\_\_.


Stejně jako v Polsku se zde na severu území rozkládají \_\_\_\_\_, jih území je hornatý.

Z České republiky teče přes Německo řeka \_\_\_\_\_. Nejprůmyslovější oblastí protéká řeka \_\_\_\_\_.

Obě se vlévají do \_\_\_\_\_ moře. Na jihu je největším vodním tokem \_\_\_\_\_.

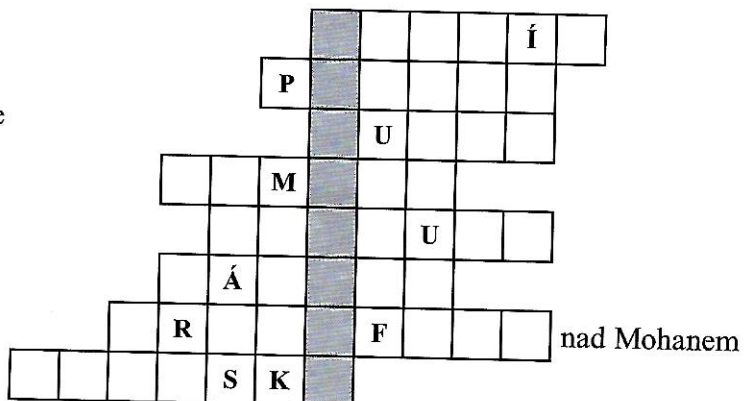
Největší řeky jsou propojeny říčními \_\_\_\_\_. Německo má bohaté zásoby \_\_\_\_\_ a \_\_\_\_\_, nejvýznamnější je průmysl \_\_\_\_\_.

Zemědělci pěstují \_\_\_\_\_.



3. Křížovka. Pracujte s učebnicí, str. 50, v bodech 3 a 8 s přílohovou mapou z učebnice.

- Hlavní město Německa
- Název státu, odkud je do Berlína nejbližší
- Řeka tekoucí z Německa do Černého moře
- Pohoří na hranicích ČR a Německa
- Největší německý přístav na Labi
- Severní sused Německa
- Město s největším letištěm v Německu
- Moře ležící mezi Německem a Švédskem



Tajenka: Alpské jezero ležící na pomezí Německa, Rakouska a Švýcarska: \_\_\_\_\_.