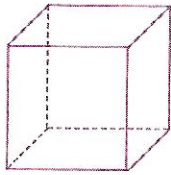
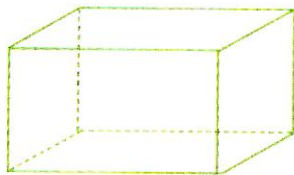


1. Na následujících obrázcích správně barevně označ (nebo zakresli) určené části těles:

ooo



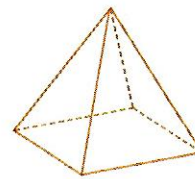
levá boční stěna



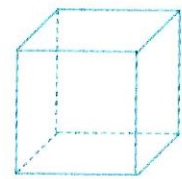
všechny vrcholy
v pravé boční stěně



horní a dolní
podstava



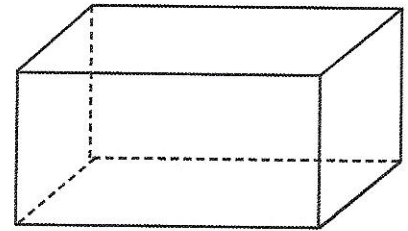
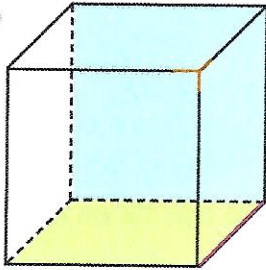
hlavní vrchol



jakákoli tělesová
úhlopříčka

2. Doplní názvy částí krychle a spoj s částmi na kvádr.

ooo





3. Napiš, které věci mohou mít tvar:

ooo

krychle

kvádrů



4. Spočítej, kolik je na obrázku krychlí a kvádrů.

ooo

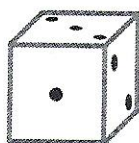

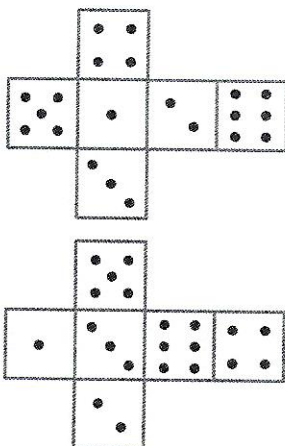
Krychlí:

Kvádrů:



5. Vybarvi stejnou pastelkou krychli a její síť.

ooo



6. Dokresli krychli a kvádr.

ooo

